

Прочитайте текст и выполните задания 16, 17 и 18.

Атмосферная рефракция

Прежде чем луч света от удалённого космического объекта (например, звезды) попадёт в глаз наблюдателя, он должен пройти сквозь земную атмосферу. При этом световой луч подвергается процессам рефракции, поглощения и рассеяния. Рефракция света в атмосфере — оптическое явление, представляющее собой преломление световых лучей в атмосфере и проявляющееся в кажущемся смещении удалённых объектов (например, наблюдаемых на небе звёзд). По мере приближения светового луча от небесного тела к поверхности Земли плотность атмосферы растёт (рис. 1) и лучи преломляются всё сильнее. Процесс распространения светового луча через земную атмосферу можно смоделировать с помощью стопки прозрачных пластин, оптическая плотность которых изменяется по ходу распространения луча (рис. 2).

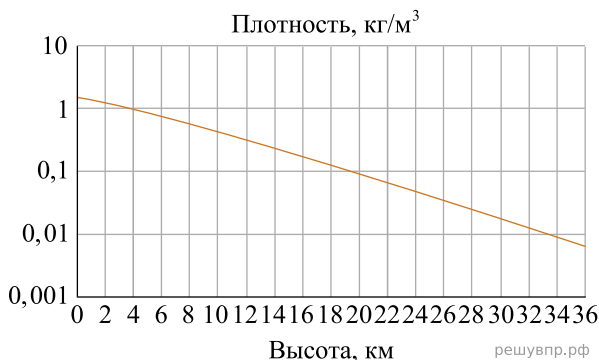


Рис. 1. Изменение плотности воздуха с высотой относительно уровня моря.

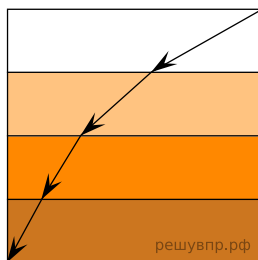


Рис. 2

Из-за рефракции наблюдатель видит объекты не в направлении их действительного положения, а вдоль касательной к траектории луча в точке наблюдения (рис. 3). Угол α между истинным и видимым направлениями на объект называется углом рефракции. Звёзды вблизи горизонта, свет которых должен пройти через самую большую толщу атмосферы, сильнее всего подвержены действию атмосферной рефракции (угол рефракции составляет порядка $1/6$ углового градуса). Показатель преломления воздуха различен для разных длин волн: для световых волн видимого диапазона он немного уменьшается с увеличением длины волны.

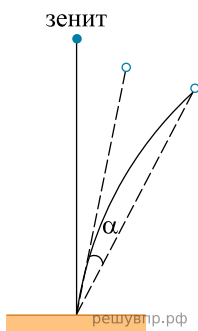


Рис. 3. Криволинейное распространение светового луча в атмосфере (сплошная линия) и кажущееся смещение объекта (пунктирная линия).

Какой из лучей — зелёный, фиолетовый или красный — характеризуется наименьшим углом рефракции?